

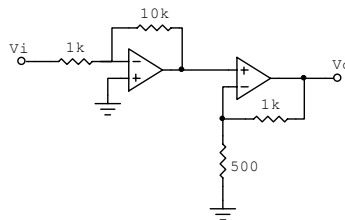
Universidade Federal de Santa Catarina
Departamento de Engenharia Elétrica

Eletrônica Básica – EEL 7061

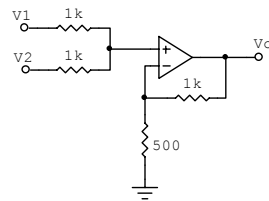
Lista de Exercícios - 1

Determine a impedância de entrada, impedância de saída e tensão de saída das configurações a seguir. Assuma que os amplificadores operacionais são ideais.

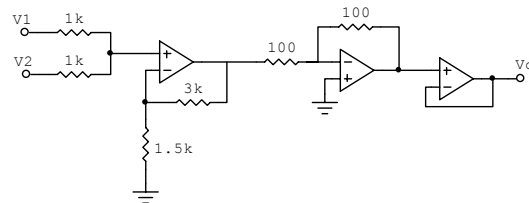
a)



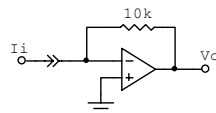
b)



c)



d)



e)

